

Fakta 01

1/2 time uden hjælpemidler

Navn:




Hvilket sømærke er det :

Beskriv sømærket bla. lyskarakter:

Hvilke refleksbånd har sømærket :

Hvorledes passeres sømærket:

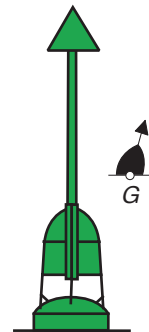


Hvilket sømærke er det :

Beskriv sømærket bla. lyskarakter:

Hvilke refleksbånd har sømærket :

Hvorledes passeres sømærket:



Hvad markerer disse båker ?

Hvorledes sejler du efter disse båker ?




Hvor kan du få oplysninger om ændringer i søkortet ?

Nævn alle de nødsignaler du kan huske :

Nævn sikkerhedsudstyr du ønsker på dit skib ?:

Hvad betyder dette signal, og hvad vil du gøre hvis du møder det ?



Hvorledes vil du slukke en brand i væske (eks. bensin)

Hvad vil det sige at et skib er "let"?

Hvad er definitionen på et fiskefartøj ?

Hvornår skal der holdes udkig ?

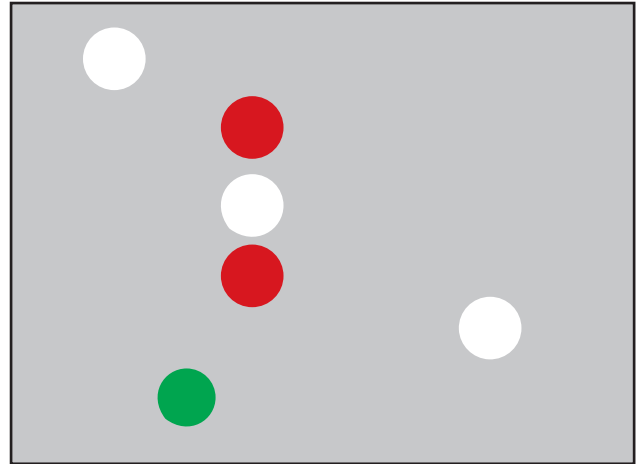
Hvad betyder lydsignalet ● ● ● ?

Hvilken skibstype viser disse lys?

Hvilken side af skibet kan ses ?

Gør skibet fart ?

- Ja
- Nej
- Kan ikke afgøres



Fortæller lanterneerne noget om skibets længde ?

Tegn skibets evt. dagsignal

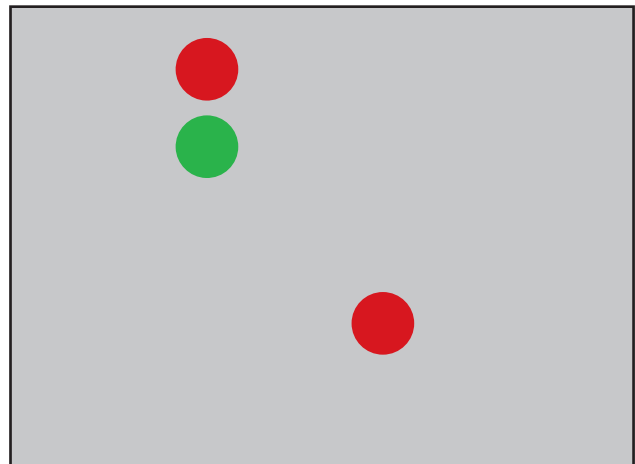
Hvad er skibets tågesignal - og hvor ofte skal det afgives ?

Hvilken skibstype viser disse lys?

Hvilken side af skibet kan ses ?

Gør skibet fart ?

- Ja
- Nej
- Kan ikke afgøres



Fortæller lanterneerne noget om skibets længde ?

Tegn skibets evt. dagsignal

Hvad er skibets tågesignal - og hvor ofte skal det afgives ?

Hvordan kan man undersøge, om der er fare for sammenstød, når to skibe nærmer sig hinanden ?

Hvis der er fare for sammenstød mellem skib A og skib B, og skib A skal vige ;
Hvordan skal skib A da udføre sin vigemanøvre ?

- og hvad skal skib B foretage sig ?

Hvem skal vige ?

Anfør med pile, hvordan skibene skal - eller kan forholde sig
- både det skib, der skal vige og det skib, der ikke skal vige.

