

# Faktaark 3

1/2 time uden hjælpemidler

Navn:

---

Hvilket sømærke:

---

Lyskarakter og farve på lys:

---

Refleksbånd:

---

Hvorledes passeres sømærket:

---

Hvor kan du få oplysninger om ændringer i søkortet:

---

Hvilket sømærke:

---

Lyskarakter og farve på lys:

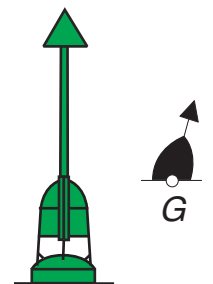
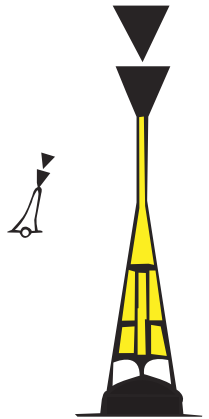
---

Refleksbånd:

---

Hvorledes passeres sømærket:

---



Nævn nødsignaler:

---

---

---

---

---

---

---

---

---

---

Nævn sikkerhedsudstyr du ønsker på dit skib:

---

---

---

---

---

---

---

---

---

---

# Faktaark 3

1/2 time uden hjælpemidler

Navn:

Hvad betyder dette dagsignal, og hvorledes vil du handle hvis du ser det ?:



---

---



Nævn 3 ting du kan gøre for at undgå brand ombord :



---

---

Hvilken redningsvest vil du vælge, og hvorfor ?

---

---

Hvad betyder lydsignalet: ●                      ?:

---

---

Hvilken skibstype viser disse lys?

---

Hvilken side af skibet kan ses ?

---

Gør skibet fart ?

---

Kan du afgøre skibets længde ?


---

Tegn skibets eventuelle dagsignal ?

---

Hvad er skibets tågesignal ?

---



# Faktaark 3

1/2 time uden hjælpemidler

Navn: \_\_\_\_\_

Hvorledes vil du observere om der er fare for sammenstød, og hvad vil du foretage dig hvis det er tilfældet ?:

---

---

---

---

Og hvis du IKKE skal vige, og det er det andet skib der skal vige ?:

---

---

Hvis det fartøj, der skal vige - IKKE gør det ?:

---

---

Beskriv hvem der skal vige A eller B - ( Der er konstateret fare for sammenstød ) ?  
(Tegn vigesituationen)

